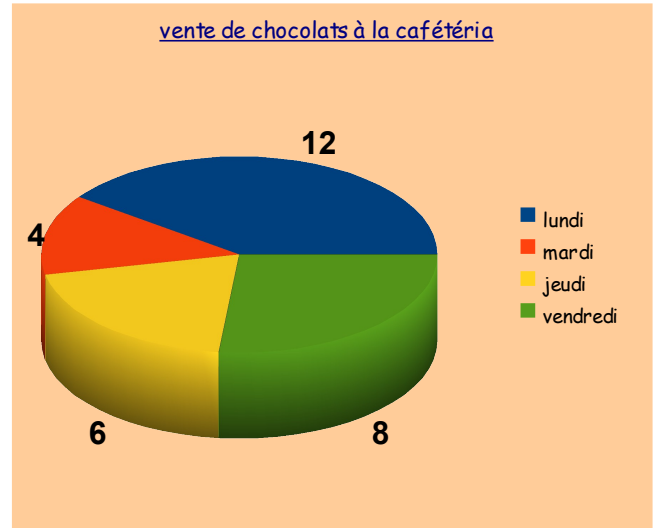
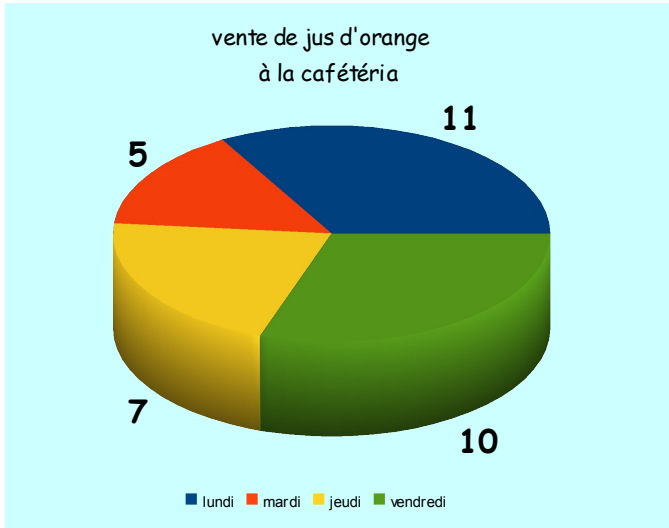


Situation de lecture sur des diagrammes
Niveau : CE1

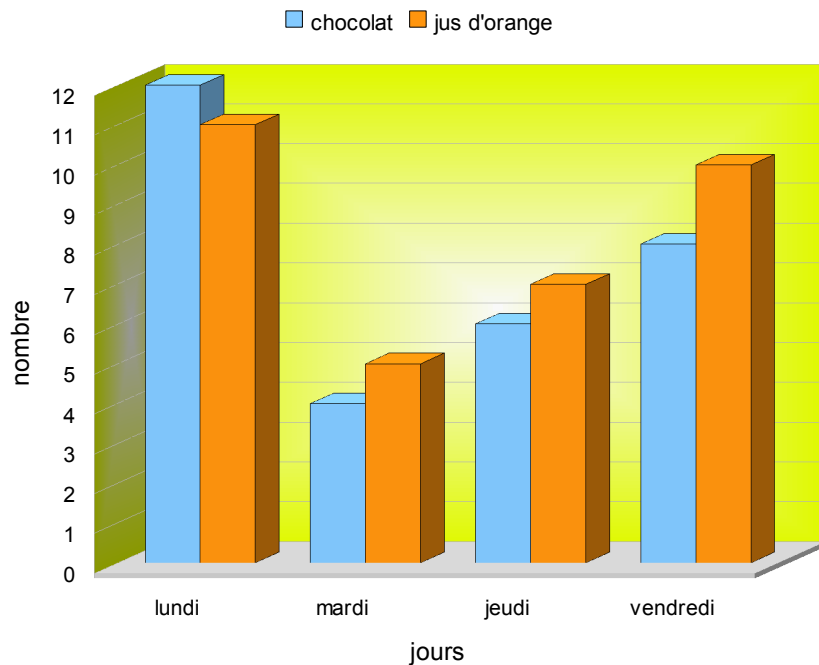
1- Observe le diagramme et complète les données manquantes du tableau.



	lundi	mardi	jeudi	vendredi
chocolats		4		
jus d'orange	11			10

2- Observe l'histogramme et réponds aux questions

VENTE A LA CAFETERIA

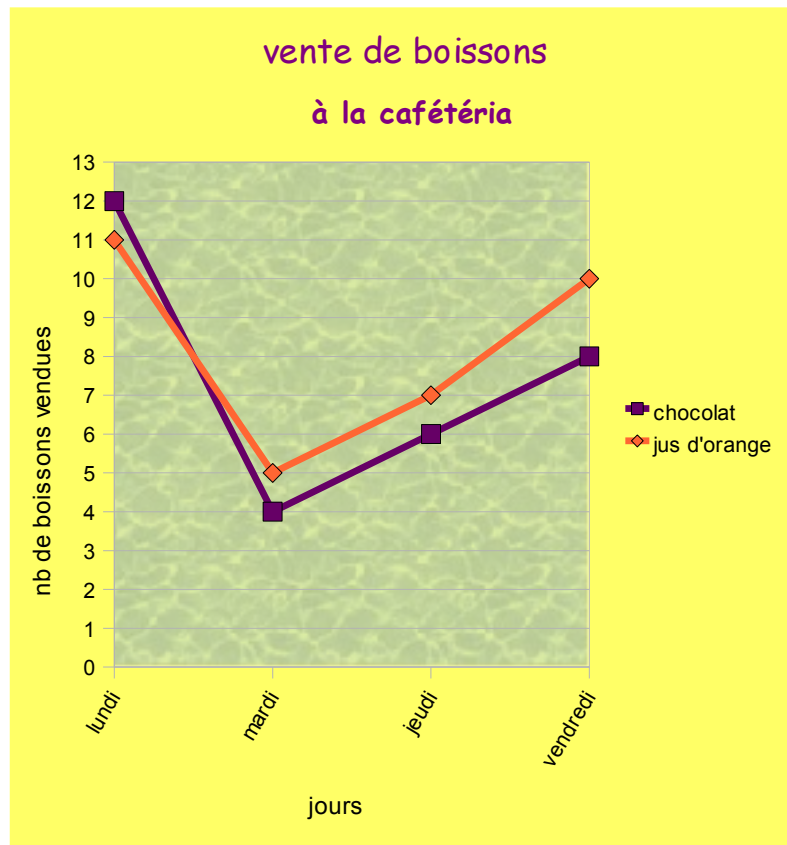


a) Quel jour a-t-on vendu le plus de jus d'orange ? _____

b) Quel jour a-t-on vendu le moins de chocolats ? _____

b) Quel jour les ventes ont-elles été les moins importantes ? _____

3- Observe les courbes et effectue les calculs.



a) Combien a-t-on vendu de boissons au total le lundi ?

Opération : _____

Réponse : _____

b) Combien a-t-on vendu de jus d'orange au total dans la semaine ?

Opération : _____

Réponse : _____